


Nume.....Clasa.....Data.....

## EDUCAȚIE MUZICALĂ

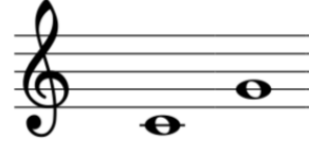
1. Scrie denumirea intervalului muzical ce se formează între treptele din imagini. Marchează intervalul și scrie cifra potrivită.



.....




.....



.....



.....



.....



.....

2. Găsește în careul alăturat denumirile celor opt intervale muzicale învățate.

PRIMA  
SECUNDA  
TERȚA  
CVARTA  
CVINTA  
SEXTA  
SEPTIMA  
OCTAVA  
INTERVAL

